

Задание по математике

Состав числа от 1-10

1. в первой (верхней) табличке выбираем цвет числам
2. во второй (большой) табличке, вспоминаем состав числа и закрашиваем указанные в верхней табличке числа.
3. в результате получается узор, рисунок.

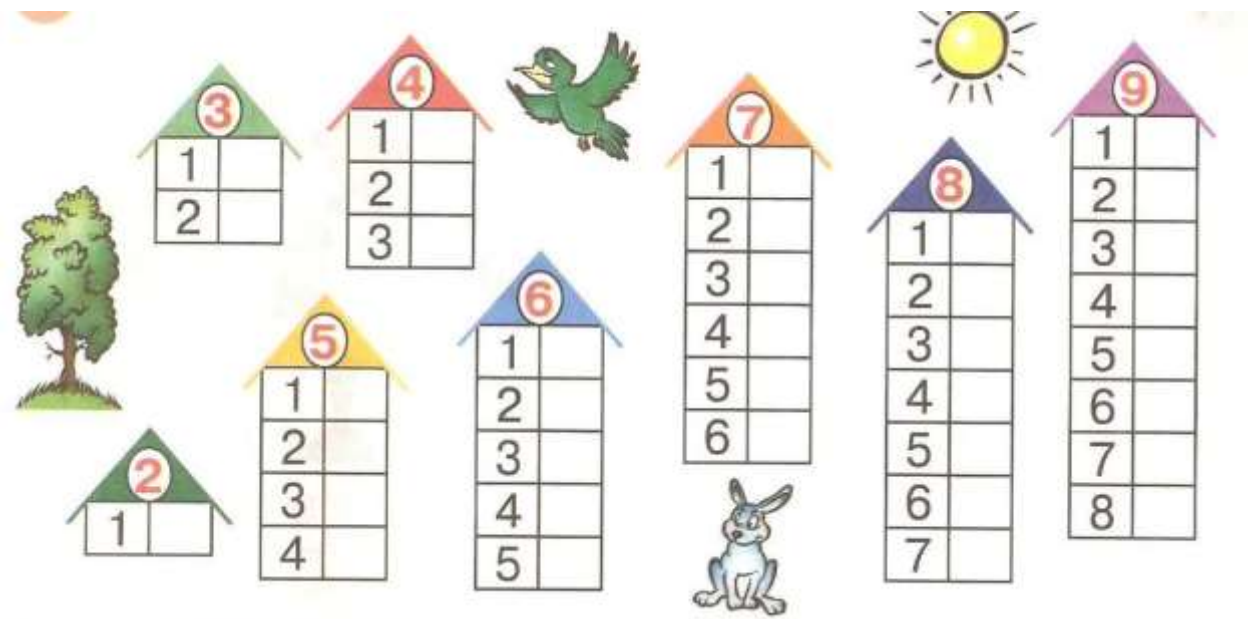
Состав числа от 1 до 10

Выбери цвет

4	6	9
---	---	---

4+5	1+1	2+2	5+2	5+5	4+2
1+0	2+2	6+3	3+3	5+4	3+2
5+3	2+7	9+0	9+1	1+3	7+3
3+5	1+5	1+9	1+8	2+4	4+1
4+3	3+1	8+1	5+1	7+2	1+1
6+0	1+7	7+1	4+4	2+2	3+6

Состав числа «Домики»



Сравнение чисел

Сравни числа. Поставь знаки «>» — «больше», «<» — «меньше», «=» — «равно».

5	>	3	7	=	7
6	○	9	10	○	2
8	○	4	6	○	4
9	○	5	2	○	9
8	○	1	9	○	9
5	○	5	4	○	1
10	○	8	6	○	4
5	○	10	2	○	9
6	○	4	7	○	8

Задания на измерение линейкой



Измерь длину отрезков и нарисуй под каждым отрезком новый отрезок, удовлетворяющий условию. Напиши длину получившегося отрезка.

На 2 см длиннее данного.



... см

... см

На 1 см короче данного.



... см

... см

На 3 см короче данного.



... см

... см

На 5 см длиннее данного.



... см

... см




Обведи самый длинный отрезок зелёным карандашом, а самый короткий — красным.



У квадрата все стороны равны.

Нарисуй рядом квадрат, у которого сторона

на 1 см длиннее



... см

... см

на 1 см короче



... см

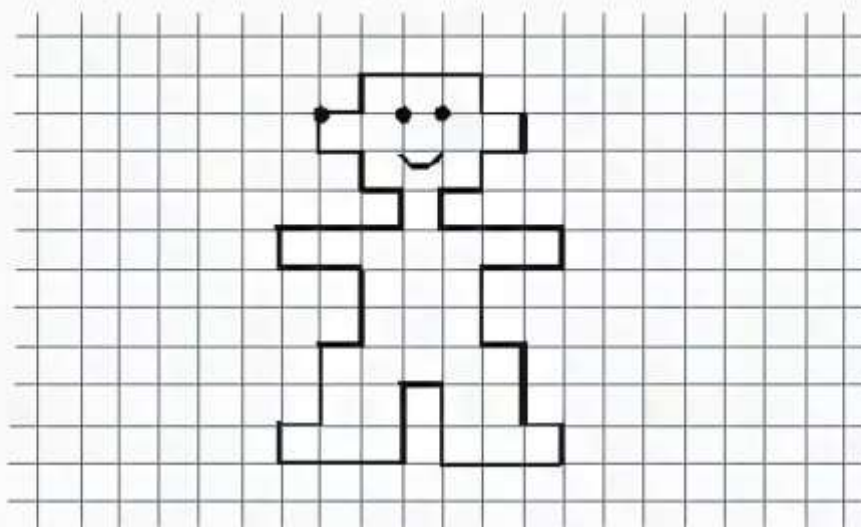
... см



Запиши длину сторон квадратов. Раскрась самый маленький квадрат синим цветом, а самый большой — жёлтым.

Графический диктант (родитель диктует ребенку)

Диктант



Отступи 7 клеток слева, 6 клеток сверху, ставь точку и начинай рисовать:

1 →	1 ←	2 ←	3 ←	1 →	3 →
1 ↑	1 ↓	2 ↓	2 ↑	2 ↑	1 ↑
3 →	1 ←	1 →	1 ←	1 →	1 ←
1 ↓	1 ↓	2 ↓	2 ↓	2 ↑	1 ↑
1 →	3 →	1 →	3 ←	2 ←	1 ←
1 ↓	1 ↓	1 ↓	1 ↑	1 ↑	1 ↑

На что похоже? Нарисуй роботу глаза и рот.

